



**Startpunkt :**

Parkplatz Festung

**Stadt: 76726 GER**

**Ausrüstung:**

Kompass, Stempel, XL Stempelkissen, Taschenrechner, Stift, Clue, Feste Schuhe, bequeme Bekleidung, Gute Laune, Pausenbrot. Unterwegs gibt es diverse Einkehrmöglichkeiten.

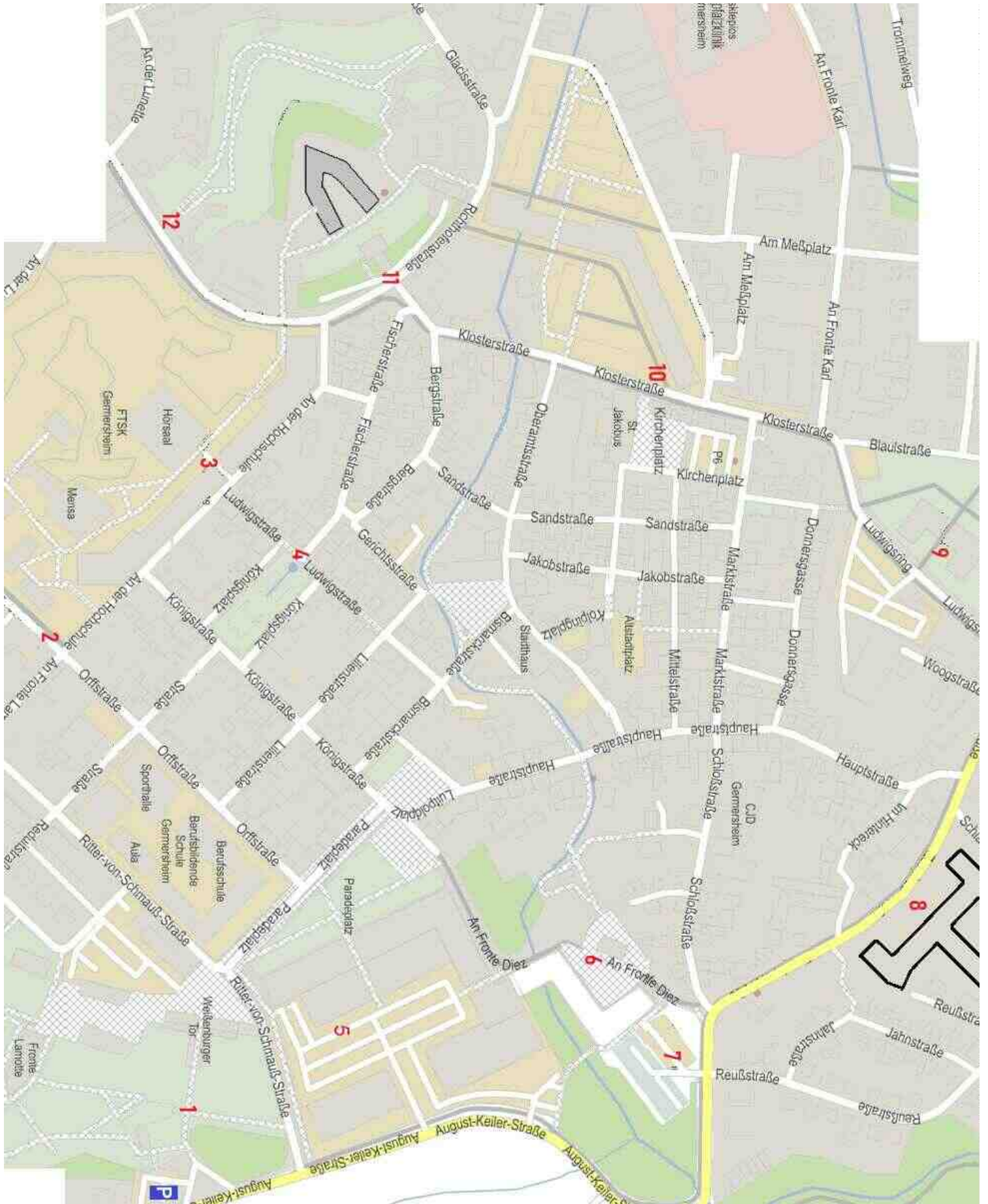
**Clue :**

Wahrscheinlich war es ganz einfach herauszufinden, in welche Stadt du fahren musst.



Jedes Symbol Steht für einen Buchstaben. Im Laufe deiner Suche werden weitere Symbole ihre Bedeutung enthüllen (sie können sowohl für Buchstaben als auch Zahlen stehen, also lasse dich nicht verwirren). Es besteht die Möglichkeit, dass du darauf auch noch zurückgreifen musst, wenn du die Letterbox schon gefunden hast. Also hebe diesen Schlüssel noch auf.

Die einzelnen Stationen sind im Stadtplan mit Nummern markiert. Suche dort nach den Hinweisen.



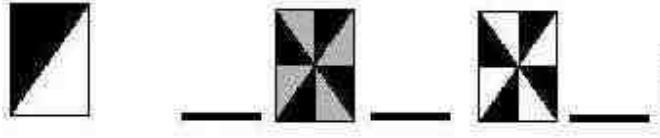
1

Wie lange ist der angegebene Rundwanderweg in Metern ?




A

Gehe zum Tor. Über dem Eingang kannst sicher schon das Wappen zwischen



Erkennen.

2 Du erreichst die Sparkasse. Dort überquerst du die



3 Vor dir befindet sich ein großes Gebäude. Wieviel Meter ist die Front lang ?

$$4 \times B = G - F + E + 12$$




B

Um welches Gebäude handelt es sich ?



4 Suche einen Engel und schaue durch das Dreieck zum Gesicht. Dahinter erkennst du eine Straße.  
Die Nummer dieser Straße ist



C

5 Dieses Gebäude ist das ehemalige Garnisons



6 Die ursprüngliche Funktion von diesem Gebäude als



Ist immer noch zu erkennen.

(Lese dir die Infotafel genau durch)


Jetzt sind dort



untergebracht.

7

Du bist an der



Dort erfährst du auch, aus welchem Zufluss der Festungsgraben geflutet wurde.



8

Du kommst an einem Gebäude vorbei, das für die Festung ebenfalls (als „Lagerhalle“) von Bedeutung war.

Was steht über dem Eingang ?



Jetzt ist dort das dt.



untergebracht. Auch dort gibt es eine Infotafel.

Über wie viele Geschützstände verfügte dieses Gebäude ?



Auch die Anzahl der Geschützkasematten der einschenkligen Grabenwehr findest du dort



9

Du bist am



Auf wie vielen Eichenpfählen musste es errichtet werden ?



Wann Wurde der Grundstein der Festung gehoben



Gehe dann weiter in Richtung Kirchturm, den du schon aus einiger Entfernung erkennen müsstest. Kurz darauf kommst du an die

10

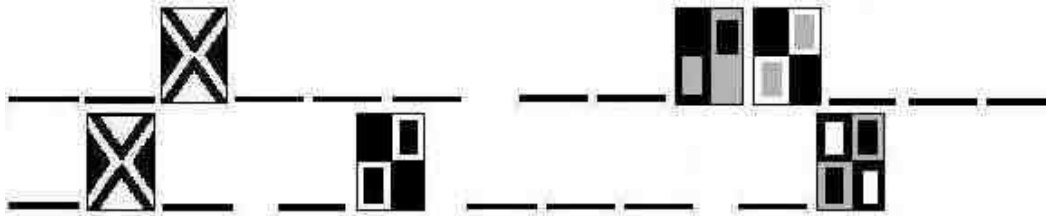


Welche Nummer steht an der Infotafel ?

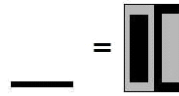


H = QS von D

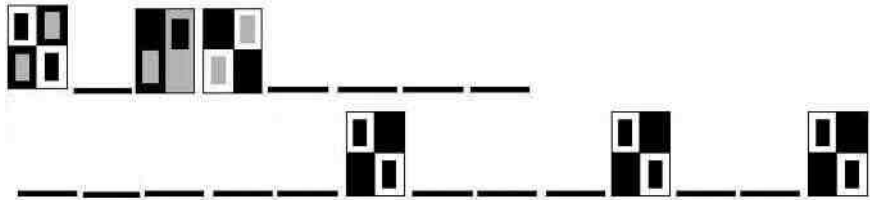
Folge dem Straßenverlauf bis du an eine weitere Festungsanlage **11** kommst. Was steht über dem Eingang ?



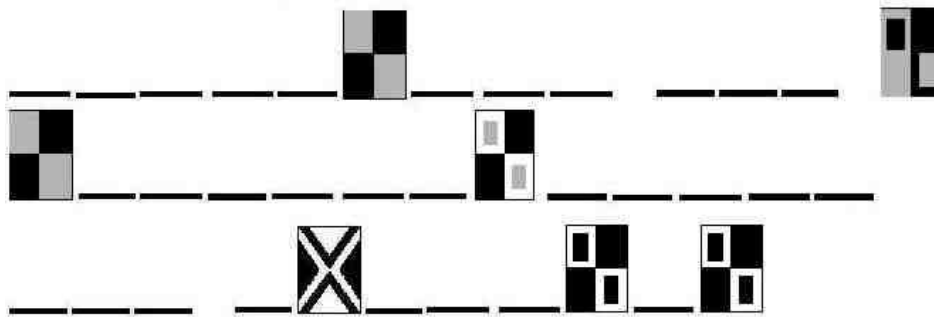
Wandle die Zahl unten in der Mitte in einen Buchstaben um.



informiere dich, welche Teile der Festung dort erhalten geblieben sind.



Sowie ein Stück



Gehe nach links zu **12**

Dieser Ort, ist großflächig bepflanzt. Auch einige Kunstwerke kannst du dort betrachten. Schau dich dort um .

Wann fand das internationale Bildhauersymposium statt ?



Welche Nummern  
Haben die Werke von Christoph Manke



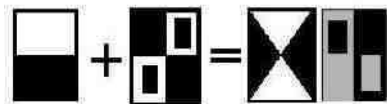
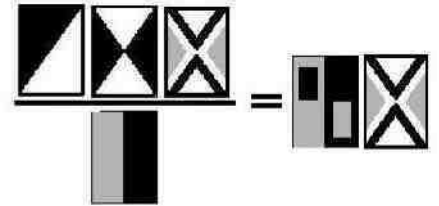

Und Holger  
Grimm ?



Der Name des Künstlers vom Kunstwerk mit der Nr. 5 ist



Wenn dir noch einige Zahlen fehlen, Kannst du versuchen, sie mit Hilfe dieser Rechenaufgaben zu lösen.



## FINALE